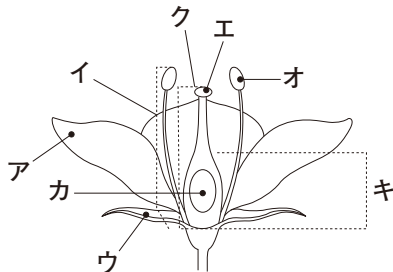




1 次の1～6の問いに答えなさい。(10点×10)

1 図のイ, エ, キの名称を書け。

図



イ

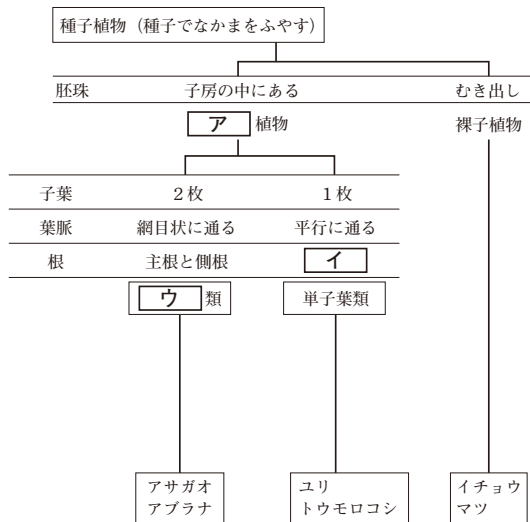
エ

キ

2 葉の表皮にある, 気体の出入り口を何というか。

3 図のア, ウにあてはまる名称を書け。

図



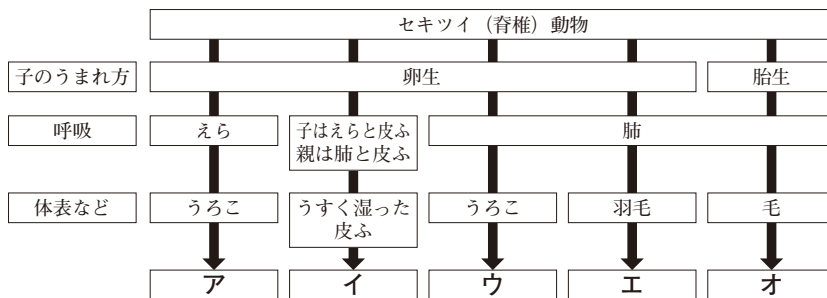
ア 植物

ウ 類

4 胞子でふえ, 維管束があり, 葉, 茎, 根の区別がある植物を何というか。

5 表のイ, エにあてはまる名称を書け。

表



イ

エ

6 からだとあしに節をもつ動物を何というか。