

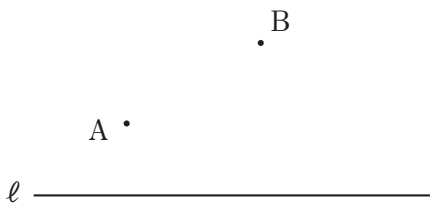


実戦力 UP トレーニング 3年 数学  ウォーミング UP ④ 「作図」	実施日 年 月 日	点数  点
	氏名	

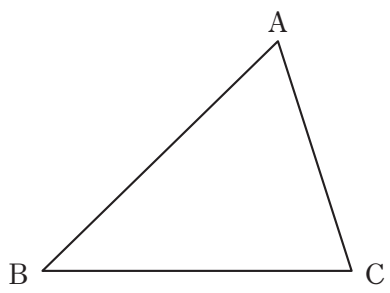
本体 P 13 ~ 16

1 次の 1 ~ 3 の問いに答えなさい。(1 30点 2 30点 3 40点)

1 次の直線 l 上にあつて、2 点 A, B から等しい距離にある点 P を作図せよ。



2 下の図の $\triangle ABC$ で、辺 AB, AC までの距離が等しく、辺 BC 上にある点 P を作図せよ。



3 下の図のように 3 点 A, B, C がある。このとき、3 点 A, B, C を通る円を作図せよ。

