



|  |           |  |
|--|-----------|--|
| <b>実戦力 UP トレーニング 3年 社会</b><br> ウォーミング UP ①<br>「世界地理①」 | 実施日 年 月 日 | 点数  |
|  | 氏名        | 点  |

**1** 次の1～10の問いに答えなさい。(10点×10)

1 地球の陸地と海洋の表面積の比を「陸地：海洋」で表すとき、最も適当なものはどれか。

ア 3：7    イ 4：6    ウ 6：4    エ 7：3

2 国土面積が世界最小の国と世界最大の国はいずれも同じ大陸にある。その大陸名を書け。

大陸

3 6大陸のうち、どの国にも属していない大陸名を書け。

大陸

4 三大洋のうちユーラシア、北アメリカ、オーストラリアの3大陸すべてに面した海洋名を書け。

5 日本が午後4時のとき、イギリスは何時か。

時

6 正距方位図法でえがかれた地図で正しく示されるものは、地図の中心からの方角と何か。

7 タイガとよばれる針葉樹林帯が見られる気候帯は何帯か。

帯



8 温帯気候の中で、地中海性気候に属する都市として最も適当なものはどれか。

ア ブラジリア    イ カイロ    ウ ローマ    エ 東京

9 イスラム教を開いた人物は誰か。

10 主にインドで信仰されており、カースト制などの身分制度が見られる宗教は何教か。

教

|  |                          |  |
|--|--------------------------|--|
| <b>実戦力 UP トレーニング 3年 社会</b><br> ウォーミング UP ②<br>「世界地理②」 | 実施日      年      月      日 | 点数  |
|  | 氏名                       | 点  |

**1** 次の1～10の問いに答えなさい。(10点×10)

1 ユーラシア大陸は2つの州に分けられる。アジア州ともう一つは何州か。

 州

2 ASEANに加盟している国として正しいものはどれか。

ア 日本    イ インド    ウ シンガポール    エ ドイツ

3 マレーシアの天然ゴム農園など、植民地時代にひろまった大規模農園を何というか。

4 アマゾン川流域などで行われている、森林などを焼き払い、その灰を肥料として行う農業を何というか。

5 オーストラリアの先住民を何というか。

ア イヌイット    イ アイヌ    ウ マオリ    エ アボリジニ

6 アジア州に属する国として誤っているものはどれか。

ア サウジアラビア    イ エジプト    ウ 中国    エ インド



7 世界最小の国であるバチカン市国がある、イタリアの首都名を書け。

8 冷戦時代、アメリカや日本などの国々を資本主義国と言っていたのに対して、ソ連や東ヨーロッパ諸国の国々を何と言っていたか書け。

9 フィヨルドは主に何によって削られてできた地形か。

10 オーストラリア、ニュージーランドが属する州は何州か。

 州

|  |           |  |
|--|-----------|--|
| <b>実戦力 UP トレーニング 3年 社会</b><br> ウォーミング UP ③<br>「日本地理①」 | 実施日 年 月 日 | 点数  |
|  | 氏名        | 点  |

**1** 次の1～10の問いに答えなさい。(10点×10)

1 日本を7つの地方に区分するとき、新潟県や愛知県が属する地方は何地方か。

2 日本列島は  , 北海道, 四国, 九州と6000を超える島々からなる。 にあてはまることばを漢字2字で書け。

3 日本やニュージーランドのように、周囲を海に囲まれた国を何というか。

4 日本の国土面積として最も適当なものはどれか。

ア 10万km<sup>2</sup>    イ 38万km<sup>2</sup>    ウ 380万km<sup>2</sup>    エ 1700万km<sup>2</sup>

5 日本とほぼ同緯度にある国として最も適当なものはどれか。

ア オーストラリア    イ ブラジル    ウ スペイン    エ タイ

6 日本の最南端にある島として正しいものはどれか。

ア 与那国島    イ 沖ノ鳥島    ウ 南鳥島    エ 択捉島

7 日本固有の領土である竹島について、領有権を主張している国はどれか。



ア 韓国    イ 中国    ウ アメリカ    エ ロシア

8 日本の太平洋側を流れる暖流を何というか。

9 縮尺が5万分の1の地形図において、直線距離が3cmの区間の実際の距離は何mか。

10 地形図記号「」が示すものとして正しいものはどれか。

ア 市役所    イ 郵便局    ウ 灯台    エ 警察署

|  |                          |  |
|--|--------------------------|--|
| <b>実戦力 UP トレーニング 3年 社会</b><br> ウォーミング UP ④<br>「日本地理②」 | 実施日      年      月      日 | 点数  |
|  | 氏名                       | 点  |

**1** 次の1～10の問いに答えなさい。(10点×10)

1 東北地方に属する県として誤っているものはどれか。

ア 山形県    イ 宮城県    ウ 石川県    エ 福島県

2 都道府県名と県庁所在地名が同じものはどれか。

ア 岐阜県    イ 神奈川県    ウ 香川県    エ 兵庫県

3 稚魚を海や川に放流し、成長してから漁獲する漁業を何というか。

4 日本の企業がアジア諸国に進出する主な背景として、日本に比べて何が低いことが挙げられるか。

5 日本の発電量に関して方法別にみた割合が最も高い発電方法として最も適当なものはどれか。

ア 水力    イ 原子力    ウ 火力    エ 風力

6 都市部などの過密地域に対して、人口の減少により社会生活が困難になることを何というか。

7 同じ田畑で、年に2回、同じ作物を作ることを何というか。



8 山間部で斜面を利用して作られた、観光資源ともなっている田を何というか。

9 中京工業地帯で工業製品出荷額の割合が最も大きいものはどれか。

ア 輸送用機械    イ 化学    ウ 食料品    エ 鉄鋼

10 日本の工業地帯は、の輸入や製品の輸送に便利な太平洋ベルト地域に集中している。

にあてはまることばを漢字2字で書け。

|  |                          |  |
|--|--------------------------|--|
| <b>実戦力 UP トレーニング 3年 社会</b><br> ウォーミング UP ⑤<br>「古代～室町時代」 | 実施日      年      月      日 | 点数  |
|  | 氏名                       | 点  |

**1** 次の1～10の問いに答えなさい。(10点×10)

1 メソポタミア文明で使われていた文字を何というか。

2 仏教を開いた人物として最も適当なものはどれか。

ア シャカ      イ ムハンマド      ウ イエス

3 卑弥呼が治めた国名を書け。

4 須恵器や漢字などを伝えた、大陸から移り住んだ人々を何というか。

5 聖徳太子によって建てられた、現存する世界最古の木造建築である寺院名を書け。


6 聖武天皇が仏教の力にたよって国家を守るために大仏を建てた寺院名を書け。

7 平安時代に生まれた、唐風の文化をふまえながらも、日本の風土や生活、日本人の感情に合った文化を何というか。

8 1086年に、院政を始めた人物名を書け。

9 御成敗式目を定めた鎌倉幕府の執権は誰か。

10 室町時代、有力な農民を中心に村ごとにつくられた自治組織を何というか。

|  |           |  |
|--|-----------|--|
| <b>実戦力 UP トレーニング 3年 社会</b><br> ウォーミング UP ⑥<br>「戦国時代～江戸時代」 本体 P21～24 | 実施日 年 月 日 | 点数  |
|  | 氏名        | 点  |

**1** 次の1～10の問いに答えなさい。(10点×10)

1 1543年にポルトガル人によって鉄砲が伝えられた場所はどこか。

2 織田信長が行った、座や関所を廃止して、自由な商工業の発展を図った政策を何というか。

3 太閤検地や刀狩を行った人物名を書け。

4 徳川家光によって定められた、大名が1年おきに領地と江戸とを往復する制度を何というか。

5 鎖国下の長崎において貿易が許された国は中国とどこか。

6 寛政の改革を行った人物名を書け。

7 元禄文化に関する人物として最も適当なものはどれか。

ア 歌川広重    イ 葛飾北斎    ウ 与謝蕪村    エ 近松門左衛門

8 1854年に、アメリカのペリーと結んだ条約名を書け。

9 日米修好通商条約を結んだ江戸幕府の大老は誰か。

10 徳川慶喜が行った、政権を朝廷に返すことを何というか。

|   |                          |   |
|---|--------------------------|---|
| <b>実戦力 UP トレーニング 3年 社会</b><br> ウォーミング UP ⑦<br>「明治時代」 | 実施日      年      月      日 | 点数 <br><br>点 |
|   | 氏名                       |   |

**1** 次の 1～10 の問いに答えなさい。(10 点×10)

1 明治政府によって出された新しい政治の方針を何というか。

2 満6歳になった男女を全て小学校に通わせることを義務とした制度を何というか。

3 徴兵令によって兵役の義務を負ったのは満何歳になった男子であるか。

|   |   |
|---|---|
| 満 | 歳 |
|---|---|

4 西南戦争の中心となった人物として最も適当なものはどれか。

ア 木戸孝允    イ 西郷隆盛    ウ 大隈重信    エ 岩倉具視

5 自由党を結成した人物名を書け。

6 初代内閣総理大臣となった人物名を書け。

7 日清戦争の講和条約名を書け。

8 1901年に操業を開始した官営の製鉄所名を書け。

9 日露戦争の講和条約名を書け。

10 関税自主権の回復に成功した人物名を書け。

|  |                          |  |
|--|--------------------------|--|
| <b>実戦力 UP トレーニング 3年 社会</b><br> ウォーミング UP ⑧<br>「大正時代～現代」<br>本体 P 29 ~ 32 | 実施日      年      月      日 | 点数  |
|  | 氏名                       | 点  |

**1** 次の 1 ~ 10 の問いに答えなさい。(10 点 × 10)

1 日本は第一次世界大戦に連合国側で参戦したが、その理由となった同盟を結んだ国はどこか。

2 1918 年、本格的な政党内閣が誕生した。このときの内閣総理大臣は誰か。

3 アメリカのウィルソン大統領の提案をもとに世界平和と国際協調を目的として発足した国際機関を何というか。

4 1925 年、加藤高明内閣によって普通選挙法の選挙権は、満何歳以上の男子に与えられたか。

|   |   |
|---|---|
| 満 | 歳 |
|---|---|

5 普通選挙法と同年に制定された、共産主義を取り締まる法律を何というか。

6 世界恐慌への対策として、五か年計画を行った国はどこか。

7 1936 年におきた、陸軍の青年将校などが大臣などを暗殺した事件を何というか。

8 1945 年に原子爆弾を投下された日本の都市は、広島とどこか。

9 サンフランシスコ平和条約と同時にアメリカと結ばれた、アメリカ軍基地が日本に残されることになった条約を何というか。

10 1973 年、第四次中東戦争が起こったことで石油価格が大幅に上昇した。これを何というか。





# 実戦力UPトレーニング 3年 社会 Checkテスト解答

## ウォーミングUP ①「世界地理①」

1

- 1 ア 2 ユーラシア大陸  
3 南極大陸 4 太平洋  
5 午前7時 6 距離  
7 冷帯(亜寒帯) 8 ウ  
9 ムハンマド(マホメット)  
10 ヒンドゥー教

## ウォーミングUP ②「世界地理②」

1

- 1 ヨーロッパ州 2 ウ  
3 プランテーション 4 焼畑農業  
5 エ 6 イ  
7 ローマ 8 社会主義国  
9 氷河 10 オセアニア州

## ウォーミングUP ③「日本地理①」

1

- 1 中部地方 2 本州(漢字2字)  
3 島国(海洋国) 4 イ  
5 ウ 6 イ  
7 ア 8 日本海流(黒潮)  
9 1500m 10 エ

## ウォーミングUP ④「日本地理②」

1

- 1 ウ 2 ア  
3 栽培漁業 4 賃金  
5 ウ 6 過疎化  
7 二期作 8 棚田  
9 ア 10 原料(資源)(漢字2字)

## ウォーミングUP ⑤「古代～室町時代」

1

- 1 くさび形文字/楔形文字 2 ア  
3 邪馬台国 4 渡来人  
5 法隆寺 6 東大寺  
7 国風文化 8 白河上皇  
9 北条泰時 10 惣

## ウォーミングUP ⑥「戦国時代～江戸時代」

1

- 1 種子島 2 楽市・楽座  
3 豊臣秀吉 4 参勤交代  
5 オランダ 6 松平定信  
7 エ 8 日米和親条約  
9 井伊直弼 10 大政奉還

## ウォーミングUP ⑦「明治時代」

1

- 1 五箇条の御誓文 2 学制  
3 満20歳 4 イ  
5 板垣退助 6 伊藤博文  
7 下関条約 8 八幡製鉄所  
9 ボーツマス条約 10 小村寿太郎

## ウォーミングUP ⑧「大正時代～現代」

1

- 1 イギリス 2 原敬  
3 国際連盟 4 満25歳  
5 治安維持法 6 ソ連  
7 二・二六事件 8 長崎  
9 日米安全保障条約  
10 石油危機/オイルショック