



1 ①～⑳に入ることばを次の語群から選んで、下の解答欄に書け（数字などは省略）。

<三大洋> 太平洋 大西洋 インド洋

<六大陸> ユーラシア大陸 アフリカ大陸 北アメリカ大陸 南アメリカ大陸

オーストラリア大陸

<世界のすがた> 季節 島国（海洋国） 赤道 地球儀 中国 バチカン市国 方位 本初

ヨーロッパ ロシア ロンドン

①		②		③	
④		⑤		⑥	
⑦		⑧		⑨	
⑩		⑪	:	⑫	
⑬		⑭		⑮	
⑯		⑰		⑱	
⑲		⑳		㉑	
㉒		㉓			

2 ①～㉑に入ることばを次の語群から選んで、下の解答欄に書け。

<世界の気候帯> アルパカ イヌイット 永久凍土 オアシス 温 寒 地中海性 熱

熱帯林（熱帯雨林） 遊牧

<世界の宗教> イスラム インド ガンジス 教会 キリスト コーラン ヒンドゥー 豚

仏 仏陀（シャカ）

①		②		③	
④		⑤		⑥	
⑦		⑧		⑨	
⑩		⑪		⑫	
⑬		⑭		⑮	
⑯		⑰		⑱	
⑲		⑳			

3

<実際に問題を解いて、知識を活用してみよう>

2 ロンドンを通る経度0度の線はどれか。次の語句から選べ。

(赤道 経線 本初子午線 緯線)

4 (1) A国は、ピラミッドが建てられ、ナイル川の流れているエジプト。

5 B国は、乾燥帯に属しているモンゴル。

6 (1) C国は、多民族国家であるアメリカ。

8 Pの雨温図…年間を通して気温が高く、降水量も多い。

Qの雨温図…気温は夏に高く、降水量は夏に乾燥し、冬に多く降る。

<記述問題にチャレンジしよう>

1 国境線の種類について

① 山や川、湖など自然をもとにしたもの。

② 緯線・経線などを利用したもの。

こうした国境線は、戦争や国どうしの関係によって歴史的に変化してきた。

3 ロシアのような寒い地域で高床式の住居が見られる理由について述べた次の文の に
適することばを書け。

建物から出る熱によって、床下の がとけだし、建物が傾いてしまうことを防ぐため。

4 _____ に適することばとして最も適当なものはどれか。

ア 砂ぼこりが入るのを防ぐ

イ 風通しをよくする

ウ 高地の寒さや風・強い日ざしを防ぐ

5 _____ に適することばとして最も適当なものはどれか。

ア 風向きが変わる イ 標高の高い地域で吹く

ウ 西から東に吹く エ 熱帯の海洋上で発生し、災害をもたらす



1 ①～⑫に入ることばを次の語群から選んで、下の解答欄に書け。

<六つの州> アジア アフリカ オセアニア 北アメリカ 南アメリカ ヨーロッパ

<各州の自然や特色> ASEAN EU アボリジニ アマゾン インド 温 乾燥 季節風
 サハラ 植民地 多文化 地中 適地適作 ヒスパニック 偏西風
 ポルトガル モノカルチャー ユーロ レアメタル ロッキー

①		②		③	
④		⑤		⑥	
⑦		⑧		⑨	
⑩		⑪		⑫	
⑬		⑭		⑮	
⑯		⑰		⑱	
⑲		⑳		㉑	
㉒		㉓		㉔	
㉕		㉖			

2 ①～③に入ることばを次の語群から選んで、下の解答欄に書け。

ICT アステカ アパルトヘイト イスラム インカ インド エジプト 企業的
 キャンベラ 経済特区 混合 産業 サンベルト 人種 多国籍 冷たい バイオ
 バチカン 一人っ子 フィヨルド フランス ベルリン ユニオン

①		②		③	
④		⑤		⑥	
⑦		⑧		⑨	
⑩		⑪		⑫	
⑬		⑭		⑮	
⑯		⑰		⑱	
⑲		⑳		㉑	
㉒		㉓			

3 次のヒントや選択肢を参考に，問いに答えよ。

<実際に問題を解いて，知識を活用してみよう>

2 A国は，スカンディナ비아半島に位置するノルウェー。

3 (1) 表中の国が六つの州のそれぞれどこに属しているかを考えることが必要。

4 B国は，乾燥帯に属しているサウジアラビア。

5 C国は，人口が世界で最も多い中国。

6 D国は，多文化社会を進めているオーストラリア。

7 E国は，世界の政治・経済の中心であるアメリカで，適地適作が行われている。

<記述問題にチャレンジしよう>

1 アフリカの多くの国々は，輸出品を特定の商品作物や鉱産資源に依存するモノカルチャー経済から脱却できていない。

2 アメリカの農業では，たくさんのスプリンクラーが付いたセンターピボット方式の大規模なかんがい農業も行われている。

3 次の文の に適する環境問題として最も適当なものはどれか。

バイオエタノールが石油に代わるエネルギー源として生産が拡大することで，二酸化炭素を削減し， を抑制することができる。

ア 大気汚染 イ 森林破壊 ウ 地球温暖化 エ 水質汚濁

5 資料から，ドイツなどの西ヨーロッパ諸国と，チェコとポーランドなどの東ヨーロッパ諸国には経済格差があることがわかる。



1 ①～⑳に入ることばを次の語群から選んで、下の解答欄に書け（数字などは省略）。

<日本の区分> 関東 九州 近畿 瀬戸内 中国・四国 中部 東北 日本海

フォッサマグナ 北陸 北海道 ユーラシア

<日本のすがた> アルプス（の屋根） 三角州 大陸棚 ハザード 択捉 北方領土

①		②		③	
④		⑤		⑥	
⑦		⑧		⑨	
⑩		⑪		⑫	
⑬		⑭		⑮	
⑯		⑰		⑱	
⑲		⑳			

2 ①～㉔に入ることばを次の語群から選んで、下の解答欄に書け（数字、記号などは省略）。

<日本の領土> 沖ノ鳥 竹 中国 排他的経済水域 南鳥 与那国 ロシア


<日本の気候> 季節風（モンスーン） 千島 対馬 日本 リマン

<地形図のみかた> 果樹園 急 工場 国土地理院 北東


①		②		③	
④		⑤		⑥	
⑦		⑧		⑨	
⑩		⑪		⑫	
⑬		⑭		⑮	
⑯		⑰		⑱	
⑲		⑳		㉑	
㉒		㉓		㉔	

3 次のヒントや選択肢を参考に、問いに答えよ。

<実際に問題を解いて、知識を活用してみよう>

1 略地図中の  で示された海流として最も適当なものはどれか。

ア 千島海流 イ リマン海流 ウ 日本海流 エ 対馬海流

4 略地図中の  では、右の写真のように、湾と岬が連続する海岸線が広がっている。



5 季節風はほぼ半年ごとに吹く向きが大きく変わる風で、夏に大陸から海洋へ、冬に大陸から海洋に向かって吹く傾向がある。

6 (3) 文中の「平均気温 7℃以上」「降水量は少ない」などに着目する。

<記述問題にチャレンジしよう>

1 日本の 200 海里水域の順位が、国土面積に比べて高い理由として最も適当なものを二つ選べ。

- ア 水産資源や鉱産資源が豊富だから。
- イ 多くの島々があるから。
- ウ 海岸線が長いから。
- エ 領海が他国に比べて広いから。

2 次の文の , に適することばをそれぞれ書け。

世界の河川と比べた日本の河川の特徴は、距離が で、流れが 。

4 瀬戸内地方でため池が多い理由とため池がつくられる目的として最も適当なものはどれか。

- ア 雨が年間を通して少ないので、井戸を掘るため。
- イ 雨が年間を通して多く、洪水を防ぐため。
- ウ 雨が年間を通して少なく、水不足を防ぐため。

5 三角州と扇状地はどのようにしてできた地形か。適当なものをそれぞれ選べ。

- ア 山間部から平野部に出る場所に土砂が堆積してできた地形。
- イ 谷だった部分に海水が入り込んでできた、入り組んだ海岸線の地形。
- ウ 河口に土砂が堆積してできた地形。
- エ 風で運ばれた砂が積もってできた地形。



1 ①～⑳に入ることばを次の語群から選んで、下の解答欄に書け（数字などは省略）。

<都道府県の名称と位置> 愛知 秋田 神奈川 京都 広島 福岡

<都道府県と県庁所在地> 城下 廃藩置県

<日本の資源> 再生可能 産業 食料自給 水力 精密 育てる

<日本の人口> 限界 公害 少子高齢 昼夜 名古屋

①		②		③	
④		⑤		⑥	
⑦		⑧		⑨	
⑩		⑪		⑫	
⑬		⑭		⑮	
⑯		⑰		⑱	
⑲		⑳			

2 ①～㉓に入ることばを次の語群から選んで、下の解答欄に書け（記号などは省略）。

<日本の農業> 果樹 近郊 高原 米 シラス 促成 茶 抑制 輪作

<日本の工業> 北関東 北九州 京浜 京葉 瀬戸内 太平洋 中京 東海 阪神 北陸

①		②		③	
④		⑤		⑥	
⑦		⑧		⑨	
⑩		⑪		⑫	
⑬		⑭		⑮	
⑯		⑰		⑱	
⑲		⑳		㉑	
㉒		㉓			

3 次のヒントや選択肢を参考に，問いに答えよ。


<実際に問題を解いて，知識を活用してみよう>


1 C県は，中京工業地帯の中心である愛知県。


2 A県－新潟県，B県－長野県，D県－兵庫県。

3 東北地方の冷害の原因となる夏に吹く風として最も適当なものはどれか。

ア 偏西風 イ やませ ウ 季節風 エ からっ風

4 略地図中の  は，静岡県，和歌山県，愛媛県，長崎県，熊本県。

7 略地図中の  で囲まれた海岸は波がおだやかで，湾と岬が交互に連続する，入り組んだ海岸線が見られるリアス海岸。

8 略地図中の  で示した2県は，年間を通して気候が温暖な高知県と宮崎県。

<記述問題にチャレンジしよう>

2 右の表は，航空輸送と海上輸送の主な輸送品。

航空輸送	海上輸送
科学光学機器	自動車
電気回路用品	自動車部品
個別半導体	二輪自動車
通信機	石油
医薬品など	鉄鋼など

3 _____ に適することばとして最も適当なものはどれか。

- ア 昔ながらの景観を再現するため。
イ 人工的な景観をつくるため。
ウ 歴史的景観を守るため。

4 日本には原料はないが，高い技術力で優れた工業製品を作ることができた。

5 栽培漁業についての説明として最も適当なものはどれか。

- ア 稚魚や稚貝を河川に放流し，成長してから漁獲する漁業。
イ 稚魚や稚貝をアミを張った海に放流し，成長するまで育てる漁業。
ウ 稚魚や稚貝をため池などの人工的な池に放流し，成長するまで育てる漁業。



1 ①～⑳に入ることばを次の語群から選んで、下の解答欄に書け。

<四大文明> 甲骨 ナイル メソポタミア

<政治> 摂関政治 摂政 大宝律令 源頼朝 大和政権（ヤマト王権）

<経済> 口分田

<社会> 仮名文字 惣 高床倉庫 天平 土偶 埴輪

<外交> 勘合 元寇 遣隋使 渡来人 卑弥呼

①		②		③	
④		⑤		⑥	
⑦		⑧		⑨	
⑩		⑪		⑫	
⑬		⑭		⑮	
⑯		⑰		⑱	
⑲		⑳			

2 ①～㉓に入ることばを次の語群から選んで、下の解答欄に書け。

足利尊氏 足利義満 イスラム 院政 応仁 桓武 キリスト 百済 遣唐使
 建武の新政 御成敗式目 墾田永年私財法 地頭 守護 承久 聖徳太子 聖武 真言宗
 壬申 埴ノ浦 天台宗 唐 中大兄皇子 フビライ・ハン 平城京 仏 邪馬台国

①		②		③	
④		⑤		⑥	
⑦		⑧		⑨	
⑩		⑪		⑫	
⑬		⑭		⑮	
⑯		⑰		⑱	
⑲		⑳		㉑	
㉒		㉓		㉔	
㉕		㉖		㉗	

3 次のヒントや選択肢を参考に，問いに答えよ。

<実際に問題を解いて，知識を活用してみよう>

1 ピラミッドがつくられた文明として最も適当なものはどれか。

ア 中国文明 イ メソポタミア文明 ウ エジプト文明 エ インダス文明

3 古墳の表面に置かれたものとして最も適当なものはどれか。

ア 磨製石器 イ 埴輪 ウ 銅鐸 エ 土偶

5 中大兄皇子と中臣鎌足が，645年に蘇我氏を倒して行った政治改革。

7 に適することばとして最も適当なものはどれか。

ア 国司 イ 征夷大將軍 ウ 太政官 エ 関白

9 足利義満は，明の求めに応じて倭寇を禁じる一方，正式な貿易船に明から与えられた資料の合
い札を持たせ，朝貢の形の日明貿易を始めた。

<記述問題にチャレンジしよう>

2 _____ に適することばとして最も適当なものはどれか。

ア 6歳以上の男子 イ 6歳以上のすべての男女
ウ 20歳以上の男子 エ 20歳以上のすべての男女

3 _____ に適することばとして最も適当なものはどれか。

ア 仏教の力にたよって国家を守る イ 山奥の寺で仏教の学問や厳しい修行を重んじた
ウ 仏教の信者を増やす エ 浄土信仰による仏教の教えを広める

5 六波羅探題を置いた目的として最も適当なものはどれか。

ア 朝廷による律令政治を協力して行うため。
イ 北朝と南朝の二つの朝廷の争いをしずめるため。
ウ 朝廷の持つ政治の実権を握るため。
エ 朝廷を監視するため。

6 日明貿易で勘合が用いられた理由について述べた次の文の に適することばを書け。

正式な貿易船と を区別するため。



1 ①～⑱に入ることばを次の語群から選んで、下の解答欄に書け（数字などは省略）。

<政治> 寛政 下剋上 大政奉還 天保 徳川吉宗 豊臣秀吉 武家諸法度

<経済> 商品作物 天下の台所 楽市・楽座

<社会> 五人組 千利休 尊王攘夷 分国法

<外交> キリスト 朝鮮通信使 出島 日米修好通商

①		②		③	
④		⑤		⑥	
⑦		⑧		⑨	
⑩		⑪		⑫	
⑬		⑭		⑮	
⑯		⑰		⑱	

2 ①～㉔に入ることばを次の語群から選んで、下の解答欄に書け。

織田信長 化政 寛政 関税自主 享保 権利章典 元禄 薩長同盟 ザビエル
 人権宣言 戦国 大政奉還 出島 鉄砲 徳川家光 徳川家康 徳川綱吉 徳川慶喜
 豊臣秀吉 日米和親条約 武家諸法度 兵農分離 ペリー 水野忠邦 領事裁判

①		②		③	
④		⑤		⑥	
⑦		⑧		⑨	
⑩		⑪		⑫	
⑬		⑭		⑮	
⑯		⑰		⑱	
⑲		⑳		㉑	
㉒		㉓		㉔	
㉕					


3 次のヒントや選択肢を参考に，問いに答えよ。

<実際に問題を解いて，知識を活用してみよう>

1 戦国大名が領国支配のために独自につくった法律として最も適当なものはどれか。

ア 禁教令 イ 分国法 ウ 刀狩令 エ 武家諸法度

2 イエズスの宣教師であり，鹿児島・平戸（長崎県）・山口・京都・豊後府内（大分県）などを訪れ，天皇・将軍・領主などに布教のための働きかけをした。



3 織田信長が鉄砲を有効に使った戦い方で武田氏を破った戦いとして最も適当なものはどれか。

ア 関ヶ原の戦い イ 桶狭間の戦い ウ 応仁の乱 エ 長篠の戦い

5 ポルトガル人やスペイン人との貿易として最も適当なものはどれか。

ア 日明貿易 イ 朱印船貿易 ウ 南蛮貿易 エ 中継貿易

7 水野忠邦が行った改革として最も適当なものはどれか。

ア 寛政の改革 イ 正徳の治 ウ 享保の改革 エ 天保の改革

<記述問題にチャレンジしよう>

1 下剋上の説明として最も適当なものはどれか。

- ア 実力のある者が力をのばして上の身分の者に打ち勝つこと。
- イ 米を買いしめた商人に対して打ちこわしを行うこと。
- ウ 土倉や酒屋などをおそって借金の帳消しを求めること。
- エ 宣教師を国外追放すること。

3 _____ に適することばとして最も適当なものはどれか。

- ア 農民から武士になる者が多かった イ 武士から農民になるものが多かった
- ウ 武士と農民の区別がはっきり分かれた エ 武士と農民の身分が対等になった

5 日米修好通商条約の不平等な内容のうち，領事裁判権を認めたことと，あと一つは何か。最も適当なものを選べ。

- ア 関税自主権がないこと。
- イ キリシト教を信仰できないこと。
- ウ 外国の国々と自由に貿易できないこと。



1 ①～⑫に入ることばを次の語群から選んで、下の解答欄に書け（数字などは省略）。

<政治> 板垣退助 伊藤博文 五箇条の御誓文 地租改正 廃藩置県 戊辰 立憲改進黨

<経済> 財閥 富岡製糸場 八幡製鉄所

<社会> 自由民権運動 西南 福沢諭吉 文明開化

<外交> 小村寿太郎 下関 征韓論 孫文 ポーツマス 領事裁判権

①		②		③	
④		⑤		⑥	
⑦		⑧		⑨	
⑩		⑪		⑫	
⑬		⑭		⑮	
⑯		⑰		⑱	
⑲		⑳		㉑	
㉒					

2 ①～㉔に入ることばを次の語群から選んで、下の解答欄に書け（数字などは省略）。

伊藤博文 大隈重信 学制 五箇条の御誓文 小村寿太郎 三国干渉 下関条約 自由党
 自由民権 辛亥 征韓論 西南戦争 大日本帝国憲法 男子 地租改正 徴兵令 日英
 廃藩置県 版籍奉還 ポーツマス条約 戊辰戦争 陸奥宗光

①		②		③	
④		⑤		⑥	
⑦		⑧		⑨	
⑩		⑪		⑫	
⑬		⑭		⑮	
⑯		⑰		⑱	
⑲		⑳		㉑	
㉒		㉓		㉔	

③ 次のヒントや選択肢を参考に，問いに答えよ。

<実際に問題を解いて，知識を活用してみよう>

1 1868年から1869年にかけておきた，旧幕府軍と新政府軍の戦いとして最も適当なものはどれか。

ア アヘン戦争 イ 南北戦争 ウ 戊辰戦争 エ 西南戦争

2 殖産興業の一つとして，生糸の増産や品質の向上を目指して群馬県につくられた工場として最も適当なものはどれか。

ア 藩校 イ 富岡製糸場 ウ 開拓使 エ 八幡製鉄所

4 人間の平等主義をわかりやすい表現で説いた「学問のすゝめ」を著した人物として最も適当なものはどれか。

ア 渋沢栄一 イ 中江兆民 ウ 岩倉具視 エ 福沢諭吉

8 日清戦争の講和条約として最も適当なものはどれか。

ア ポーツマス条約 イ 樺太・千島交換条約 ウ 下関条約 エ 日清修好条規

<記述問題にチャレンジしよう>

3 明治政府が廃藩置県を行った目的として最も適当なものはどれか。

ア 政権を朝廷に返すため。 イ 藩主に土地と人民を政府に返させるため。

ウ 倒幕を押し進めるため。 エ 中央集権国家をつくるため。

5 1894年，陸奥宗光外相のもとで不平等条約の改正に成功した。このとき改正された内容として最も適当なものはどれか。

ア 領事裁判権の撤廃。

イ 韓国における日本の優越権。

ウ 関税自主権の回復。

エ 遼東半島の旅順や大連の租借権。

6 日露戦争後，東京などで暴動をともなう民衆運動がおこった理由について述べた次の文の

に適することばを書け。

日清戦争に比べ，戦費や戦死者が多かったにもかかわらず， を得られなかったから。



1 ①～⑫に入ることばを次の語群から選んで、下の解答欄に書け（数字などは省略）。

- <政治> ニ・ニ六 五・一五 基本的人権 政党 治安維持 ポツダム宣言 マッカーサー
 <経済> 高度経済成長 米騒動 ソ連 ニューディール
 <社会> 疎開 民本
 <外交> ウィルソン 国際連合 二十一か条の要求 日米安全保障 ベルサイユ 満州事変
 レーニン 連合国

①		②		③	
④		⑤		⑥	
⑦		⑧		⑨	
⑩		⑪		⑫	
⑬		⑭		⑮	
⑯		⑰		⑱	
⑲		⑳		㉑	
㉒					

2 ①～㉑に入ることばを次の語群から選んで、下の解答欄に書け（数字などは省略）。

- 犬養毅 ウィルソン 国際連合 国民主権 国家総動員 米騒動 サンフランシスコ平和
 石油危機 全国水平社 大政翼賛会 太平洋 治安維持法 東京 ニ・ニ六
 二十一か条の要求 日英同盟 日米安全保障 日ソ共同宣言 日中 日本国憲法 原敬
 ベルサイユ ポツダム宣言 満州事変

①		②		③	
④		⑤		⑥	
⑦		⑧		⑨	
⑩		⑪		⑫	
⑬		⑭		⑮	
⑯		⑰		⑱	
⑲		⑳		㉑	
㉒		㉓		㉔	
㉕					

③ 次のヒントや選択肢を参考に，問いに答えよ。

<実際に問題を解いて，知識を活用してみよう>

1 日本は日英同盟を理由に，連合国側に加わった。

2 第一次世界大戦の講和条約として最も適当なものはどれか。

ア サンフランシスコ平和条約 イ ベルサイユ条約

ウ 日米安全保障条約 エ ポーツマス条約

5 犬養毅首相が海軍の青年将校などに暗殺された事件として最も適当なものはどれか。

ア ニ・二六事件 イ 満州事変 ウ 五・一五事件 エ 盧溝橋事件

7 第二次世界大戦後，GHQによって戦後改革が行われた，GHQの最高司令官として最も適当なものはどれか。

ア ケネディ イ ヒトラー ウ マッカーサー エ ルーズベルト

<記述問題にチャレンジしよう>

1 米騒動について述べた次の文の に適するできごとを書け。

1918年に を見こした米の買い占めが原因で，米の値段が大幅に上がったため，米の安売りを求める運動（米騒動）が全国に広がった。

2 _____ に適することばとして最も適当なものはどれか。

ア 満20歳以上のすべての男女 イ 満25歳以上のすべての男女

ウ 満20歳以上のすべての男子 エ 満25歳以上のすべての男子

4 五・一五事件やニ・二六事件が政治に与えた影響について述べた次の文の に適することばを書け。

五・一五事件やニ・二六事件により， 政治が終わり，軍部の政治的発言力が高まった。

6 朝鮮戦争によって，日本の経済は好景気になり，戦後の復興が早まったが，その理由として最も適当なものはどれか。

ア 日本も戦争に参加し，現地で大量の物資を得たため。

イ 大量の物資が日本で調達されたため。

ウ 植民地との貿易で大量の物資を輸入していたため。

エ アメリカから日本に大量の物資が送られたため。