

# 令和2年度 統一模試 中学1年冬期テスト

(実施時間45分間)

## 社 会

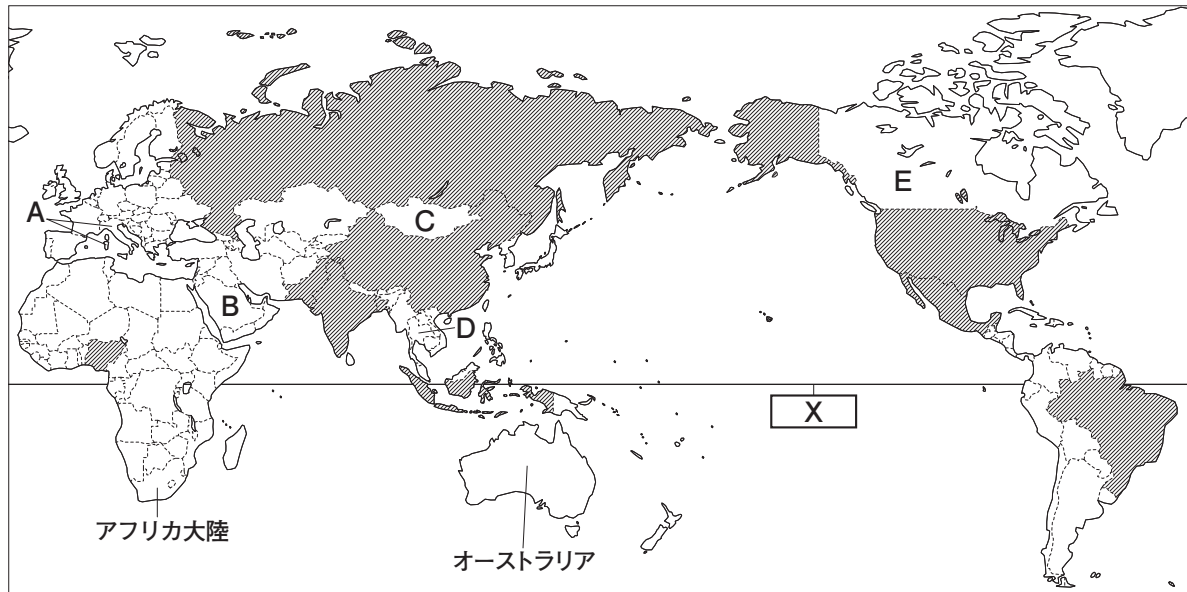
### 注 意

- 1 問題用紙は6ページあり、これとは別に解答用紙が1枚あります。
- 2 監督者の指示に従って解答用紙を取り出し、番号と氏名を解答用紙及び問題用紙の決められた欄に記入しなさい。また、解答用紙の「QRコードシールをはる」と書かれたわくの中に、シールをはみ出さないようにはりなさい。
- 3 監督者の「始め」の合図で始めなさい。
- 4 ㉓は選択問題です。㉑A, ㉑Bのどちらか一方を選んで答えなさい。
- 5 答えは、問題の指示に従って、すべて解答用紙の答えの欄に、はみ出さないように記入しなさい。
- 6 筆記用具は、HBかそれよりも濃いものを用い、文字がうすくならないように注意しなさい。
- 7 監督者の「やめ」の合図ですぐにやめなさい。

氏 名	
-----	--

1 次の略地図や資料を見て、1～11の問いに答えなさい。答えを選ぶ問いについては一つ選び、その記号を書きなさい。

略地図 1



- 1 世界を六つの州に分けたとき、略地図 1 中のオーストラリアが属している州名を書け。
- 2 緯度について説明した次の文の  ,  にあてはまることばの組み合わせとして最も適当なものはどれか。ただし、次の文と略地図 1 中の  には共通することばが入る。

緯度とは、 を 0 度として、地球を南北にそれぞれ  度に分けたものである。

- ア (X 赤道 Y 90)      イ (X 赤道 Y 180)  
 ウ (X 本初子午線 Y 90)      エ (X 本初子午線 Y 180)

- 3 略地図 1 中のアフリカ大陸の国境線は、直線的なものが多く見られる。これらの国境線は、主に何をもとにひかれたものと考えられるか。

資料 1

順位	国名	順位	国名
1	中国	6	<input type="text" value="い"/>
2	<input type="text" value="あ"/>	7	ナイジェリア
3	アメリカ	8	バングラデシュ
4	インドネシア	9	ロシア
5	パキスタン	10	メキシコ

(世界国勢図会 2019/20 年版から作成)

- 4 略地図 1 中の で示された国々は、資料 1 中の世界で人口の多い国上位 10 か国を示したものである。資料 1 中の  ,  に入る国として最も適当なものを、次のア～エからそれぞれ選べ。

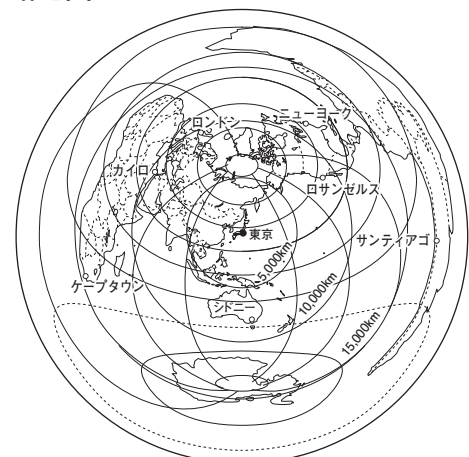
- ア ブラジル      イ サウジアラビア  
 ウ アルゼンチン      エ インド

- 5 東京からの距離と方位が正しい略地図 2 を見て、(1)、(2)の問いに答えよ。

- (1) 東京から見たロサンゼルスとカイロの方位をそれぞれ八方位で書け。
- (2) 次のア～エのうち、東京からの距離が最も遠いものはどれか。

- ア ケープタウン      イ シドニー  
 ウ ニューヨーク      エ サンティアゴ

略地図 2



6 略地図 1 中の A 国に関して、(1)~(3)の問いに答えよ。

(1) 略地図 1 中の A 国の首都ローマ市内にある、世界で一番面積の小さい国名を書け。

(2) A 国で多くの人が信仰している宗教として最も適当なものはどれか。

ア ヒンドゥー教 イ 仏教 ウ キリスト教 エ イスラム教

(3) 資料 2 は、A 国で見られる建物である。これについてまとめた次の文の  に適することばを補い、これを完成させよ。ただし、夏ということばを使うこと。

資料 2



資料 2 の家は石造りであり、地中海沿岸では壁を石灰で白く塗った家も見られる。これらは  ための工夫の一つである。

7 略地図 1 中の B 国に関して、資料 3 は、B 国で見られる風景であり、人口増加や森林伐採などによって年々広がっているこのような場所を何というか。

資料 3



8 略地図 1 中の C 国の人々の生活や自然について述べたものとして誤っているものはどれか。

ア 短い草の生える草原であるステップが広がる。      イ 遊牧を行って暮らしている。  
ウ 羊ややぎ、アルパカなどの家畜を飼育している。      エ 移動式の住居が使われている。

9 略地図 1 中の D 国に関して、(1)、(2)の問いに答えよ。

(1) D 国には、緑の葉が一年中しげる、資料 4 の背の高いうっそうとした森林が広がっている。この森林を何というか。

(2) D 国と同じ州に属している国として最も適当なものはどれか。

ア エジプト      イ ドイツ      ウ イラン      エ エクアドル

資料 4



10 略地図 1 中の E 国北部の気候についてまとめた次の文の  P  Q に適することばをそれぞれ書け。ただし、 Q はカタカナ 4 字で書くこと。

E 国北部では、気温が 0℃ 以下の期間が長く、一年の大半は雪と氷におおわれている。このような気候帯を  P という。この気候帯には、短い夏に雪や氷がとけて、わずかに草とこけが育つ  Q 気候と、一年中雪や氷でおおわれる氷雪気候が含まれる。

11 次のあ、いは、略地図 1 中の A~E のいずれかの国で見られる農業についてまとめたものである。あといいてはまる国を A~E からそれぞれ選び、その国名を書け。

あ：暑い乾燥した夏が生育に適しているぶどうやオリーブ、トマトの栽培が盛んである。

い：さとうきびやキャッサバ、とうもろこし、米などの栽培が盛んである。

2 次はある中学生が歴史上のできごとをまとめた表である。1～8の問いに答えなさい。答えを選ぶ問いについては一つ選び、その記号を書きなさい。

A	紀元前3000年ごろから、世界で <sup>Ⓐ</sup> 古代文明がおこった。古代文明がおこった地域では、農耕と牧畜が発展し、都市や国家が誕生した。
B	<sup>Ⓑ</sup> 縄文時代では、人々は狩りや漁、採集で暮らしを営んだ。住まいは、資料1のように地面を掘り下げた床に柱を立て、草や木の枝で屋根をふいた <input type="text" value="①"/> であった。
C	<sup>Ⓒ</sup> 弥生時代には、大陸から人々が九州の北部に渡ってきて、青銅器や鉄器などを日本列島に伝えた。鉄器は、武器のほか、木製の農具や船などを造る道具としても使われた。
D	<sup>Ⓓ</sup> 古墳時代には、王や豪族の墓として大きな古墳が造られ、大仙古墳などの前方後円墳も造られるようになった。
E	<sup>Ⓔ</sup> 飛鳥時代には、 <sup>Ⓘ</sup> 聖徳太子が、女帝として即位した <input type="text" value="②"/> 天皇の摂政となって、蘇我馬子とともに、中国や朝鮮半島にならった新しい政治を始めた。

1 表中の  ,  にあてはまる住居名と人名をそれぞれ **資料1** 書け。



2 ①に関して、(1)～(3)の問いに答えよ。

(1) 中国文明についてまとめた次の文の  ~  にあてはまることばの組み合わせとして最も適当なものはどれか。

中国では、黄河の中・下流域で  などを、長江の下流域で  を栽培する農耕文明が生まれた。黄河流域におこった殷では、漢字の基になった  文字が作られた。

- ア (X あわ Y 稲 Z くさび形)      イ (X 稲 Y あわ Z くさび形)  
 ウ (X あわ Y 稲 Z 甲骨)          エ (X 稲 Y あわ Z 甲骨)

(2) 紀元前6世紀ごろに、親子・兄弟などの秩序を重んじ、支配者は仁と礼を基本にした政治をするべきだとする儒学(儒教)を説いたのはだれか。

(3) エジプト文明に関するものとして最も適当なものはどれか。


- ア 時間を60進法で測ることが考えられた。      イ チグリス川の流域で生まれた。  
 ウ 国王の墓であるピラミッドが造られた。      エ モヘンジョ=ダロなどの都市が造られた。

3 ②に関して、(1)、(2)の問いに答えよ。

(1) ②のころに見られた動物として適当なものをすべて選べ。

- ア イノシシ      イ マンモス      ウ ナウマンゾウ      エ シカ

(2) ②に関係があるものとして最も適当なものはどれか。



4 ㉔に関して、(1)～(3)の問いに答えよ。

(1) 資料2は、収穫した米をたくわえるための建物である。この建物の名称を書け。

(2) 次の文の  にはあてはまる最も適当な人名を書き、 は最も適当なものを選べ。

邪馬台国の女王であった  は、 に使いを送った。

ア 周    イ 秦    ウ 漢（後漢）    エ 魏

(3) 資料3の石包丁は、主にどのような目的で使われたか書け。

5 ㉕に関して、(1)、(2)の問いに答えよ。

(1) 古墳のまわりに並べ立てられていた資料4を何というか。

(2) 3世紀後半になると、有力な豪族で構成する強力な勢力である大和政権（ヤマト王権）が生まれた。大和政権の説明として誤っているものはどれか。

- ア 大和政権の王は、大王と呼ばれていた。  
 イ 高句麗や新羅と同盟を結んで、百済と戦った。  
 ウ 奈良盆地（奈良県）を中心とする地域に生まれた勢力であった。  
 エ 5世紀の後半までに、九州中部から関東までの豪族を従えるようになった。

6 ㉖に関して、中大兄皇子が行ったこととして最も適当なものはどれか。

- ア あとつぎをめぐる戦いである壬申の乱に勝って即位した。  
 イ 新しい支配の仕組みを作る改革である大化の改新を行った。  
 ウ 才能や功績のある人を役人に取り立てる冠位十二階の制度を制定した。  
 エ 世界最古の木造建築である法隆寺を建てた。

7 ㉗に関して、(1)、(2)の問いに答えよ。

(1) ㉗は、隋の進んだ制度や文化を取り入れようとして遣隋使を派遣した。遣隋使として派遣された人物として最も適当なものはどれか。

ア 中臣鎌足    イ 蘇我入鹿    ウ 蘇我馬子    エ 小野妹子

(2) ㉗が制定した十七条の憲法についてまとめた次の文の  に適することばを書け。ただし、役人ということばを使うこと。

仏教や儒学の考えを取り入れ、 を示したもの。

8 次のア～エのできごとのうち、CとDの時代のできごとにあてはまるものをそれぞれ選べ。

- ア 朝鮮半島から渡来人が日本に移り住み、大陸の文化を伝えた。  
 イ 氷期が終わると、海面が上がり、日本列島の形や気候は現在とほぼ同じになった。  
 ウ 日本で初めての仏教文化が生まれた。  
 エ 人々はむら（ムラ）を造って住み、やがて周辺のむらをまとめる有力な国（クニ）が現れた。

資料2



資料3



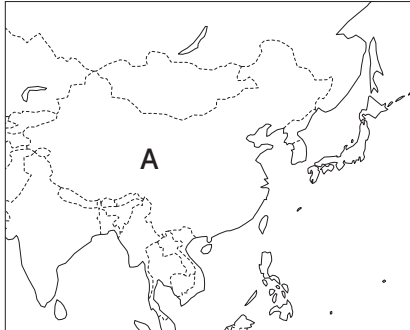
資料4



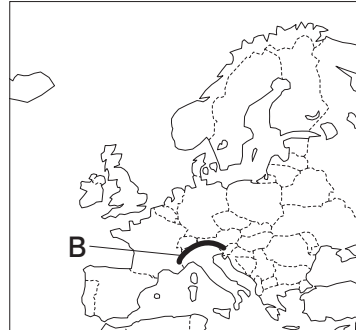
3 選択問題 3A <アジア・ヨーロッパ・アフリカ>, 3B <奈良時代～平安時代>のどちらか一方を選んで答えなさい。答えを選ぶ問いについては一つ選び、その記号を書きなさい。

3A 次の略地図1～3（縮尺は異なる）を見て、1～3の問いに答えなさい。

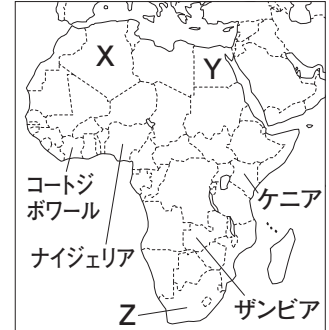
略地図1



略地図2



略地図3

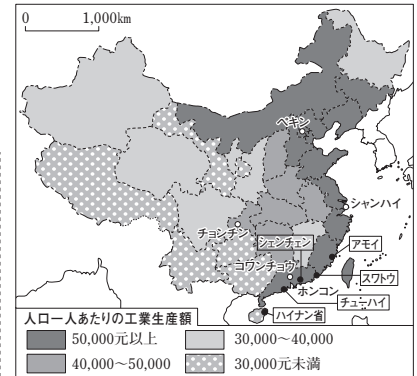


1 略地図1中のA国に関して、(1), (2)の問いに答えよ。

- (1) 略地図1中のA国の南部などで行われている、同じ土地で年に2回同じ作物を作ることを何というか。
- (2) 資料1について述べた次の文の  にあてはまることばを漢字4字で書け。

資料1中のシェンチェンやアモイなどに、外国企業を受け入れる  を設け、工業化が進む一方、内陸部の農村では工業化がおくれており、沿岸部と内陸部との経済格差が拡大していることが大きな社会問題になっている。

資料1 A国の地域別人口一人あたりの工業生産額



(A国の統計年鑑2012年版から作成)

2 略地図2に関して、(1)～(3)の問いに答えよ。

- (1) 略地図2中のBで示した山脈として最も適当なものはどれか。  
ア ピレネー山脈 イ アルプス山脈 ウ ヒマラヤ山脈 エ アンデス山脈
- (2) 略地図2中のヨーロッパの国々のうち、現在27か国がEU(ヨーロッパ連合)に加盟している(2020年11月時点)。EU加盟国間の多くで使用されている共通通貨をカタカナで書け。
- (3) EU加盟国間では貿易が盛んに行われているが、その理由を書け。ただし、輸入品、関税ということばを使うこと。

3 略地図3に関して、(1), (2)の問いに答えよ。

- (1) 資料2中のア～エは、略地図3中のコートジボワール、ナイジェリア、ザンビア、ケニアの輸出品を示したものである。ケニアにあてはまるものはア～エのうちどれか。
- (2) 次の文にあてはまる国を、略地図3中のX～Zから選べ。

長期間、アパルトヘイトによって、ヨーロッパ系以外の人々が差別されてきたが、長年の反対運動で廃止され、1994年には初の黒人大統領が誕生した。

資料2

(2012年) 109億ドル						
ア	カカオ豆 21.4%	石油製品 16.3	原油 11.6	天然ゴム 7.4	金 5.9	その他 37.4
(2010年) 52億ドル						
イ	茶 22.5%	胡椒 7.7	野菜 5.2	その他 64.6		
(2013年) 106億ドル						
ウ	銅 64.9%		その他 35.1			
(2012年) 1,432億ドル						
エ	原油 69.2%		石油製品 8.6	天然ゴム 7.0	その他 15.2	

(UN comtrade から作成)

3B 次の略年表を見て、1～5の問いに答えなさい。

1  にあてはまる人名を書け。

2 資料1は、㉑のしくみを示したものである。(1)～(3)の問いに答えよ。

(1) 資料1中の  X  には、九州地方の政治や外交、防衛にあたる役所があてはまる。この役所を何というか。

世紀	主なできごと
8世紀	㉑ 律令による政治が行われる
9世紀	<input type="text"/> によって真言宗が伝えられる ㉒ 摂関政治が始まる
11世紀	㉓ 国風文化が栄える ㉔ 平等院鳳凰堂が建てられる

(2) 資料1のしくみが用いられた奈良時代について述べたものとして適当でないものはどれか。

ア 人々は、6年ごとにつくられる戸籍に、良民と奴婢などの賤民に分けて登録された。

イ 国には都の貴族を国司として派遣し、人々をおさめさせた。

ウ 東北地方の蝦夷の討伐のために、坂上田村麻呂が征夷大將軍に任命された。

エ 和同開珎などの貨幣が平城京の市で使われるようになった。

(3) この時代に書かれた、地方の国ごとに自然、産物、伝説などを記した書物として最も適当なものはどれか。

ア 風土記    イ 日本書紀    ウ 古事記    エ 万葉集

3 資料2は、4人の娘を天皇のきさきにすることで勢力をのばし、㉕を最も安定させた人物によってよまれた和歌である。これをよんだ人物の名前を書け。

4 資料3は、㉖がおこったきっかけとなったできごとである、菅原道真の提案を示したものである。菅原道真の提案によって決定されたできごととは何か書け。

5 ㉗に関する事として最も適当なものはどれか。

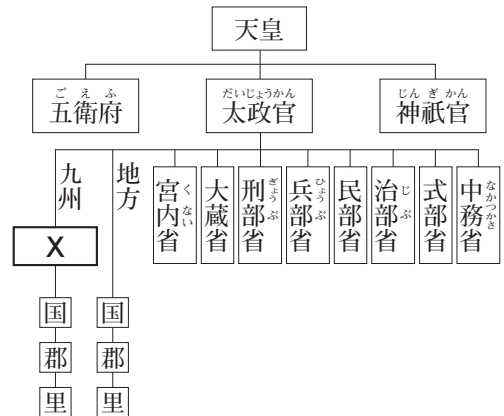
ア 奥州藤原氏によって、浄土へのあこがれから建てられた。

イ 仏教の力に頼って国家を守るために建てられた。

ウ 盲目になりながらも来日した鑑真によって建てられた。

エ 極楽浄土での往生を願い、そのようすを想像して建てられた。

資料1



資料2

この世をば わが世とぞ思う望月の  
欠けたることも 無しと思えば

資料3 菅原道真の提案

唐に滞在中の僧からの報告には、唐の衰えているようすが詳しく書かれていました。(中略)唐の状況が報告のようだとしたら、今後のこの事業の苦難は今から思いやられます。(部分要約)

