

# 令和3年 統一模試 新中学3年春期テスト

(実施時間 50 分間)

## 社 会

### 注 意

- 1 問題用紙は表紙を入れて7ページあり、これとは別に解答用紙が1枚あります。
- 2 監督者の指示に従って、解答用紙を取り出し、番号と氏名を解答用紙及び問題用紙の決められた欄に記入しなさい。また、解答用紙の「QRコードシールをはる」と書かれたわくの中に、シールをはみ出さないようにはりなさい。
- 3 監督者の「始め」の合図があるまで開いてはいけません。
- 4 答えは、問題の指示に従ってすべて解答用紙の答えの欄に、はみ出さないように記入しなさい。
- 5 筆記用具は、HBかそれよりも濃いものを用い、文字がうすくならないように注意しなさい。
- 6 監督者の「やめ」の合図ですぐにやめなさい。

氏 名	
-----	--

1 次のⅠ～Ⅲの問いに答えなさい。答えを選ぶ問いについては一つ選び、その記号を書きなさい。

Ⅰ 略地図は、東京を中心とし、東京からの距離と方位が正しい地図である。これを見て、1～7の問いに答えよ。

1 略地図中の東京の延長線上にあるXの経度は何度か、東経か西経かも区別して書け。ただし、東京の経度を東経140度とする。

2 略地図中の東京から真東に進むと最初にたどり着く大陸として最も適当なものはどれか。

ア 北アメリカ大陸    イ 南アメリカ大陸

ウ ユーラシア大陸    エ オーストラリア大陸

3 略地図中のYの大陸では、人口増加などを背景に、過剰な森林の伐採や放牧などによって、樹木や草原が失われてきている地域がある。このような人間の活動などによって、植物が生えていた土地が、草も育たないやせた土地になることを何というか。

4 略地図中のアメリカについて述べた次の文の□に適することばを、カタカナ6字で書け。ただし、□には共通することばが入る。

メキシコなどの国々からアメリカに移り住んできた、スペイン語を話す移民やその子孫は□とよばれる。□は、主にメキシコに隣接するアメリカの南西部の州に住んでいる。

5 資料1は、略地図中のフランス、中国、アメリカと日本の経済活動総人口に占める農林水産業の活動人口割合と農林水産業従事者1人あたりの農地面積を表したものである。資料1中のア～エのうち、アメリカにあてはまるものとして最も適当なものはどれか。

資料1

国	経済活動総人口に占める農林水産業の活動人口割合 (%)	農林水産業従事者1人あたりの農地面積 (ha)
ア	3.4	2.0
イ	1.4	180.5
ウ	27.0	2.5
エ	2.6	39.8

(世界国勢図会 2019/20年版から作成)

6 略地図中の赤道が通るある地域で見られる暮らしについて述べている文として最も適当なものはどれか。

ア 一年の大半は雪と氷におおわれていて、あざらしなどの狩りが行われている。

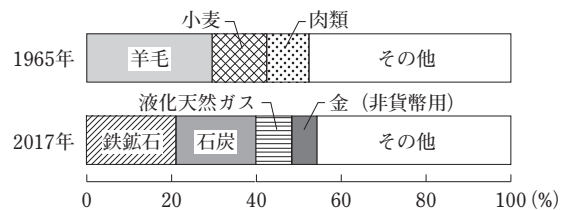
イ 暖流と偏西風の影響で冬でも温暖であり、混合農業が行われている。

ウ 一年を通して高温多湿で、風通しのよい高床の伝統的な住居が見られる。

エ 気温は夏と冬の差が大きく、森林が広がっているので、木材を豊富に使った住居が見られる。

7 資料2は、1965年と2017年における、オーストラリアの輸出総額に占める品目別の輸出額の割合を示している。1965年から2017年の間に、オーストラリアの輸出品目にはどのような変化が見られるか。資料2をもとにして、1965年と2017年のそれぞれの特徴がわかるように書け。

資料2



(世界国勢図会 2019/20年版などから作成)

II 次の略地図を見て、1～5の問いに答えよ。

- 略地図中の㉔～㉚の県のうち、県名と県庁所在地名が異なる県はどれか。
- 略地図中の宮古市について述べた次の文を読み、(1)、(2)の問いに答えよ。



宮古市の港付近の地形はリアス海岸で、天然の良港となっている。三陸沖では、秋に寒流である  に乗ってやってくるさんまが捕獲されている。しかし近年はさんまの水揚げ量が減少している。その理由の一つに、排他的  の外側の公海で外国の大型船が大量にさんまを捕獲していることが考えられる。

- (1) 文中の  にあてはまることばとして最も適当なものはどれか。

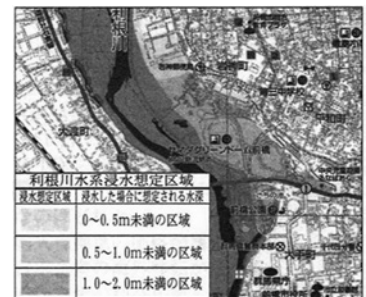
ア 対馬海流    イ リマン海流    ウ 親潮    エ 黒潮

- (2) 文中の  にあてはまることばを書け。

- 全国各地の自治体は資料1のようなハザードマップ(防災マップ)を作成している。これについて述べた次の文の  に適することばを補い、これを完成させよ。ただし、予測ということばを使うこと。

ハザードマップ(防災マップ)は、自然災害による  し、避難経路や避難場所などの情報を示したものである。

資料1

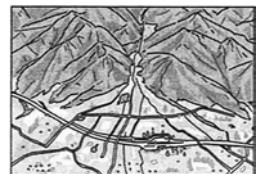


(前橋市ホームページから作成)

- 略地図中の甲州市では、資料2のような地形が見られる。資料2の地形について述べた文として最も適当なものはどれか。

- ア 川が山間部から平野や盆地に出たところに、土砂がたまってつくられる。  
 イ 川が平野や盆地から海へ流れ込むところに、運ばれた土砂でつくられる。  
 ウ 水が得やすいところで、昔から畑や果樹園として利用されてきた。  
 エ 水はけがよいところで、昔から水田として利用されてきた。

資料2

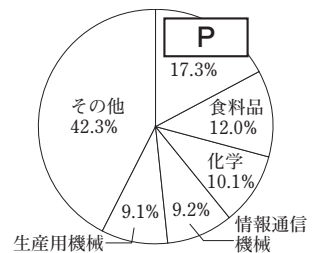


- 略地図中の山形県について述べた次の文の ,  にあてはまることばの組み合わせとして最も適当なものはどれか。ただし、 には、資料3中の  と共通することばが入る。

山形県では交通網の整備が進み、 に沿った地域を中心に、主に関東地方に出荷される  などを生産する工場の立地が進んだ。

- ア (O 高速道路    P 鉄鋼)    イ (O 鉄道    P 鉄鋼)  
 ウ (O 高速道路    P 電子部品)    エ (O 鉄道    P 電子部品)

資料3 山形県の製造品出荷額等の割合(2016年)



(データで見る県勢 2019年版から作成)

III 資料1、資料2から、郊外型のショッピングセンターの割合が増えてきた理由を書け。ただし、具体的な数値を示す必要はない。

資料1 日本のショッピングセンターの店舗数と乗用車保有台数の推移

	日本のショッピングセンターの店舗数		計	乗用車保有台数(千台)
	中心地域型	郊外型		
1979年	389	184	573	21,409
1989年	697	448	1,145	30,713
1999年	1,075	1,083	2,158	49,968
2009年	1,349	1,640	2,989	57,682

(注) 中心地域型とは商業機能が集積した中心市街地付近にあるもの。郊外型とは都市の郊外で住宅地や農地が広がる場所にあるもの。

(日本ショッピングセンター協会資料などから作成)

資料2

郊外型のショッピングセンターの施設の一部



2 次のⅠ～Ⅲの問いに答えなさい。答えを選ぶ問いについては一つ選び、その記号を書きなさい。

Ⅰ 次の略年表を見て、1～7の問いに答えよ。

1 表の  には  
てはまる国名として  
最も適当なものはど  
れか。  
ア 高麗  
イ 百済  
ウ 高句麗  
エ 新羅

年	主なできごと	
663	倭の軍が白村江の戦いで唐と <input type="text"/> の連合軍に敗れる	A B C D
797	① 坂上田村麻呂が蝦夷の討伐を命じられる	
1232	公平な裁判を行うための基準となる② 御成敗式目を定める	
1404	③ 足利義満が明と貿易を始める	
1592	④ 豊臣秀吉が明の征服をめざし、朝鮮に兵を送る	
1603	⑤ 徳川家康が江戸に幕府を開く	

2 ①について、蝦夷を征服するために設けられた軍の総司令官の名称として最も適当なものはどれか。

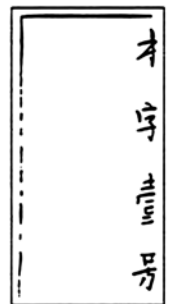
ア 摂政 イ 執権 ウ 征夷大將軍 エ 太政大臣

3 ②について説明した次の文のX、Yの正誤の組み合わせとして最も適当なものはどれか。

X 北条時宗によって定められたものである。  
Y 朝廷の律令にもとづいてつくられ、武士の慣習を改める基準となった。

ア (X 正 Y 正) イ (X 正 Y 誤)  
ウ (X 誤 Y 正) エ (X 誤 Y 誤)

資料1



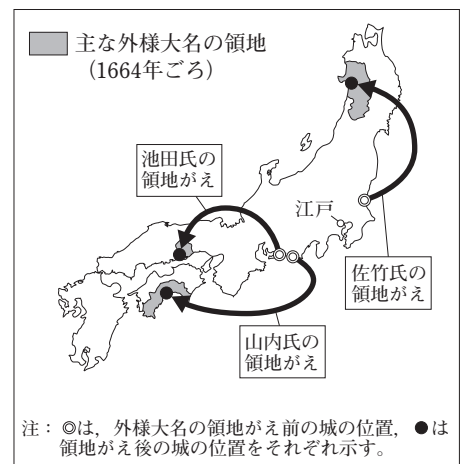
4 ③について、この貿易は資料1のような証明書をを用いたことから何貿易とよばれるか。

5 ④が、農民や寺社から刀や弓、やり、鉄砲などの武器を取り上げたことを何というか。

6 ⑤について述べた次の文の  に適することばを補い、これを完成させよ。ただし、江戸ということばを使うこと。

徳川家康は全国支配の実権をにぎり、幕府の権力を固めた。幕府は大名の配置を工夫し、たとえば、資料2のように外様大名に対しては、領地を  こともあった。

資料2 主な外様大名の領地がえ



(「日本史大事典」などから作成)

7 資料3、資料4は同時期に栄えた文化に関する資料である。この文化が栄えた時期が入る期間として最も適当なものは、略年表中のA～Dのうちどれか。

資料3



資料4



II 次の略年表を見て、1～5の問いに答えよ。

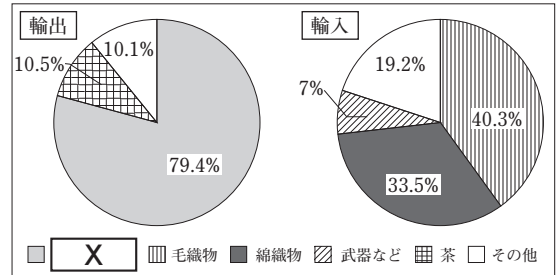
1 ㉑について、江戸幕府がこのように対外政策の転換を図ったきっかけとなった、清とイギリスとの間でおきた戦争を何とよぶか。

年代	主なできごと
1850年代	㉑ <u>アメリカ船に食料や水などの提供を認める条約を結ぶ</u>
1860年代	㉒ <u>貿易により日本国内の綿織物業が打撃を受ける</u>
1870年代	㉓ <u>文明開化が進む</u>
1880年代	㉔ <u>自由民権運動が盛んになる</u>

2 ㉒について、資料1はこの時期の日本の輸出入額の品目別割合（1865年）を示したものである。これについて述べた次の文を読み、(1)、(2)の問いに答えよ。

国内の **X** は、輸出の増加により深刻な品不足となった。また、綿織物の輸入が増加して、その価格が **Y** するなど、国内の綿織物業は打撃を受けた。なお、この時期は **Z** の影響もあってアメリカとの貿易は少なく、イギリスが最大の貿易相手国であった。

資料1



〔横浜市史〕から作成

(1) 文中の **X** , **Y** にあてはまることばの組み合わせとして最も適当なものはどれか。

ただし、資料1中の **X** には共通することばがあてはまる。

ア (X 生糸 Y 下落)      イ (X 生糸 Y 上昇)

ウ (X 鉄鋼 Y 下落)      エ (X 鉄鋼 Y 上昇)

(2) **Z** にあてはまることばとして最も適当なものはどれか。

ア 独立戦争      イ 南北戦争      ウ インドの大反乱      エ ピューリタン革命

3 ㉓について、(1)、(2)の問いに答えよ。

(1) 資料2に描かれているものの中で文明開化のようすを表しているものを一つ書け。

(2) このころ、欧米の「自由」や「権利」についての思想を日本に紹介し、社会に影響を与えた人物を二人選べ。

ア 福沢諭吉      イ 本居宣長

ウ 吉田松陰      エ 中江兆民

資料2



4 ㉔に関して、板垣退助を党首とする政党名を書け。

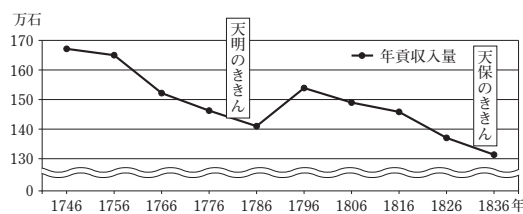
5 略年表中の時期におきた次のア～エのできごとを、年代の古い順に並べよ。

ア 薩摩藩と長州藩が薩長同盟を結ぶ。      イ 井伊直弼が桜田門外の変で暗殺される。

ウ 戊辰戦争がおこる。      エ 西南戦争がおこる。

III 明治政府が地租改正を行った理由と目的を、資料1、資料2を比較して書け。ただし、地価ということばを使うこと。

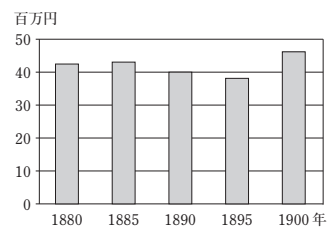
資料1 江戸時代の幕領の年貢収入量



〔角川日本史辞典〕から作成

資料2

明治政府の収入のうち地租の額



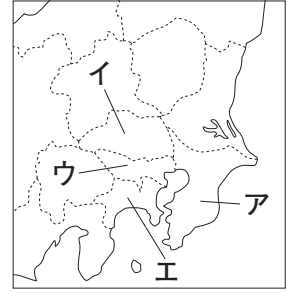
〔日本の百年〕から作成

3 次のⅠ、Ⅱの問いに答えなさい。答えを選ぶ問いについては一つ選び、その記号を書きなさい。

Ⅰ 次は東京都についてまとめたものである。1～7の問いに答えよ。

① 東京都の中心部は、日本最大の平野に位置している。明治維新で「東京」に改称されるまでは江戸という名称で、将軍の城下町であったことから「将軍のおひざもと」といわれ、17世紀後半には、②大阪・京都と合わせて  とよばれていた。東京都にはさまざまな都市機能が集まっており、③日本の企業だけでなく外国企業の事務所なども多く置かれていて、④外国人も多く居住している。

略地図



1 文中の  にあてはまることばを漢字2字で書け。

2 ①は、略地図中のア～エのうちどれか。

3 ②について、この平野の名称を書け。

4 ③に関して、明治時代に東京都本郷区向ヶ丘弥生町(現在の東京都文京区弥生)で、資料1のような赤褐色の土器が発見され、この地から名前を取り、弥生土器とよばれるようになった。弥生土器が使われていたころのようすについて述べたものとして最も適当なものはどれか。

ア 大和政権が生まれ、前方後円墳とよばれる大きな墓がつくられるようになった。

イ 大陸から伝わった稲作が東日本にまで広まり、稲の穂をたくわえるための高床の倉庫もつくられた。

ウ 集団をつくってたて穴住居にすみ、海岸や水辺には食べ物の残りかすなどを捨てた貝塚ができた。

エ 打製石器をつけたやりなどを使って、ナウマンゾウやオオツノジカなどをとらえて食べていた。

5 ④について、17世紀に大阪や京都を中心とする上方で栄えた文化に関係する人物として最も適当なものはどれか。

ア 葛飾北斎    イ 松尾芭蕉    ウ 喜多川歌麿    エ 与謝蕪村

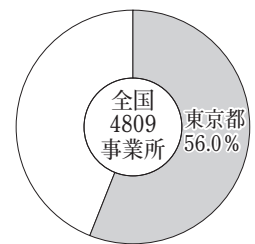
6 ⑤について、資料2は全国の出版業の事業所数における東京都が占める割合を表している。東京都の割合が高い理由を書け。ただし、首都、情報ということばを使うこと。

7 ⑥について、資料3は東京都内にある、ある宗教の礼拝堂である。資料3のような礼拝堂をもち、「コーラン」を教典とする宗教は何か。

資料1



資料2 出版業の事業所



[2012年]

(住民基本台帳人口要覧から作成)



(東京ジャーミー HP から作成)

II 次は、鹿児島県の市町村が姉妹都市盟約を結んでいる都市の一部についてまとめたものである。これを見て、1～6の問いに答えよ。

市町村	姉妹都市	姉妹都市になったきっかけ
鹿児島市	ナポリ市(イタリア)	ナポリ湾に望むベスビオ火山を有するナポリ市と、錦江湾に浮かぶ①桜島を有する鹿児島市の風景が似ていることなどから。
鹿児島市	長沙市(中国)	鹿児島市は中国大陸に近く、 <input type="text"/> や遣唐使船など歴史的関係も深いことから。
西之表市	ヴィラ・ド・ビスポ市(ポルトガル)	②鉄砲伝来450周年を契機に、大航海時代をひらいたサグレス号ゆかりの地であったことから。
日置市	スバンジャヤ市(③マレーシア)	旧吹上町の「からいも交流」をきっかけとし、後にマレーシア大使が日置市を訪問し、姉妹都市提携を強く希望されたことから。
与論町	ミコノス市(④ギリシャ)	魅力あふれる海洋資源を持つ町同士が、国際親善と交流を深め、お互いが観光地としての国際ステータスを高める目的から。
長島町	吉祥面(⑤韓国)	本土と島を橋でつなぎ「橋を渡る町」という地理的に共通した要因を持つことをきっかけに相互交流が始まったことから。

1 表中のにあてはまる人物について述べた次の文を読み、適する人名を書け。

唐の僧侶であったこの人物は、日本に渡ろうとして何度も遭難し、盲目になったが、遣唐使にともなわれて来日し、正しい仏教の教えを広め、日本の寺院や僧の制度を整えた。

2 ①に関して、九州の南部には、火山灰や軽石などのつもった台地が分布し、現在では畑作や畜産が盛んである。この台地を何というか。

3 ②に関して、ヨーロッパの国々がアジアを目指した理由の一つに、世界でおこったあるできごとがある。これについて述べた次の文のX, Yにあてはまることばの組み合わせとして最も適当なものはどれか。

ローマ教皇のX人々がY。これに対して、カトリック教徒の間にはイエズス会を中心に勢力の回復を図る運動がおこった。

- ア (X 呼びかけに賛同した Y 宗教改革を始めた)  
 イ (X 呼びかけに賛同した Y 十字軍を編成した)  
 ウ (X 方針に反対した Y 宗教改革を始めた)  
 エ (X 方針に反対した Y 十字軍を編成した)

資料

A (千t)		B (千t)		C (千t)	
ブラジル	2,681	コートジボワール	2,034	中国	2,460
ベトナム	1,542	ガーナ	884	インド	1,325
コロンビア	754	インドネシア	660	ケニア	440
インドネシア	669	ナイジェリア	328	スリランカ	350
ホンジュラス	475	カメルーン	295	ベトナム	260

(データブックオプザワールド 2020年版から作成)

4 ③にはプランテーションが多くある。資料は主にプランテーションで栽培される作物の生産量の上位5か国と、それぞれの国の生産量を示している。A～Cはカカオ、コーヒー豆、茶のいずれかである。A～Cの組み合わせとして最も適当なものはどれか。

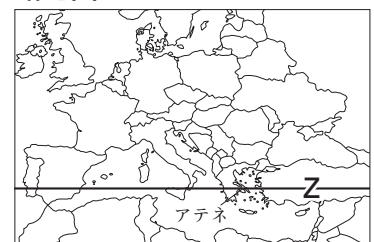
- ア (A カカオ B コーヒー豆 C 茶)    イ (A コーヒー豆 B カカオ C 茶)  
 ウ (A カカオ B 茶 C コーヒー豆)    エ (A コーヒー豆 B 茶 C カカオ)

5 略地図中のZは、④の首都アテネを通る北緯38度線を示している。同緯線上にある日本の都市として最も適当なものはどれか。

- ア 鹿児島市    イ 那覇市    ウ 札幌市    エ 新潟市

6 ⑤に関して、江戸時代、朝鮮から通信使が来日することが慣例となった。この使節団は、どのようなときに訪れたか。

略地図





※統一実施日以前のテスト実施は固くお断りいたします。  
※このテストを許可なく複写・転載することを禁じます。